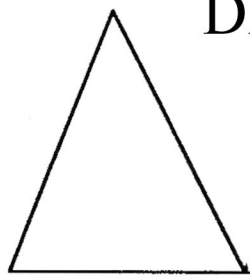
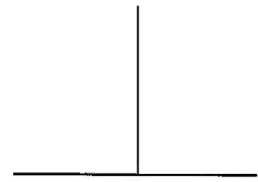


LE "TOUT FERMÉ" DE LA DÉMONSTRATION (depuis les "Eléments" d'Euclide)

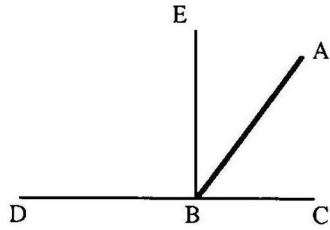
DÉFINITIONS



DEF 19: "triangle" est une figure rectiligne de 3 côtés



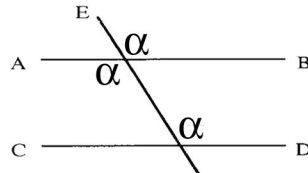
DEF10: "angle droit" est l'angle formé par une perpendiculaire




TH13: les angles adjacents = 2droits

POSTULATS/AXIOMES

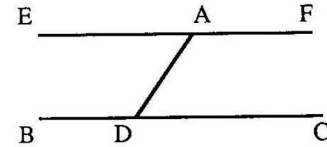
POST2: tout segment peut être prolongé



TH28: égalité des angles alternes et correspondants



POST5: 2 parallèles ne se rencontrent jamais



TH31: tracer une parallèle

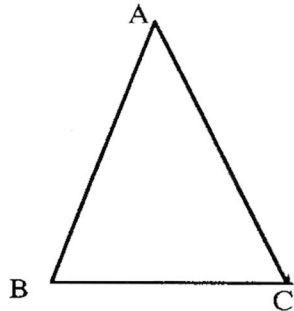
AX1 Deux choses égales à une troisième sont égales entre elles

THEOREMES PRECEDENTS

THESE: dans tout triangle la somme des angles internes est égale à deux angles droits

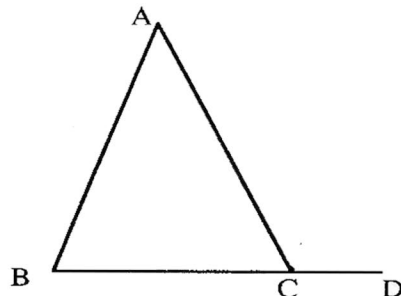
PRÉMISSES

P1 Soit donné le triangle ABC



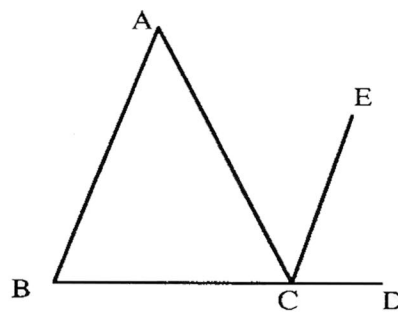
DEF10

P2 que l'on prolonge la base BC en D



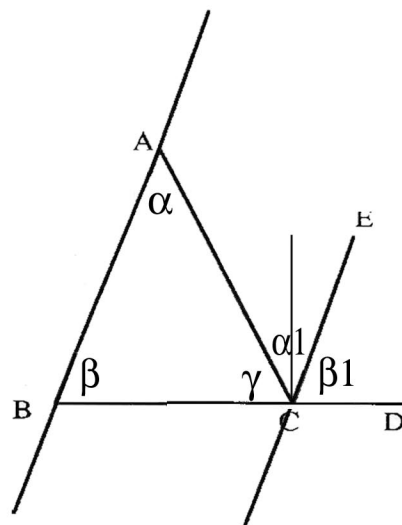
AX2

P3 que l'on trace la parallèle CE à AB



POST5
TH31

P4 Les angles $\alpha\beta\gamma$ sont $=\alpha_1\beta_1\gamma = 2$ droits



DEF10, AX1, TH13, TH28,

CONCLUSION : DONC dans tout triangle la somme des angles internes est égale à deux angles droits